

8003

ШКОЛЬНЫЙ ЭТАП
ВСЕРОССИЙСКОЙ ОЛИМПИАДЫ ШКОЛЬНИКОВ
ПО ИСТОРИИ 2020-2021 г.
ЗАДАНИЯ
8 КЛАСС

8003

1	2	3	4	5	6	7	8	9	Итого
8	9	5	10	24	4	20	6	3	89

Задание 1.

Выберите правильный ответ. За каждый правильный ответ – 2 балла. Максимальный балл – 8

А) Как называется документ, отрывок из которого представлен ниже?

«В случае, если какая-либо форма правительства становится губительной для самих этих целей, народ имеет право изменить или упразднить её и учредить новое правительство, основанное на таких принципах и формах организации власти, которые, как ему представляется, наилучшим образом обеспечат людям безопасность и счастье».

- 1) Соборное уложение
- 2) Великая хартия вольностей
- 3) Декларация независимости
- 4) Судебник Ивана IV

Б) В каком году был принят документ, отрывок из которого приводится ниже?

«Лето 7006, месяца семптеврия, уложил князь великий Иван Васильевич всяя Руси, с детми и с бояры, о суде, как судити боярам и околничим...»

57. О христанском отказе. А христаном отказываться из волости, ис села в село, один срок в году за неделю до Юрьева дни осеннего и неделю после Юрьева дни осеннего...»

- 1) 1497 г.
- 2) 1525 г.
- 3) 1550 г.
- 4) 1581 г.

В) Какую систему земледелия применяли восточные славяне в VI-VIII веках в лесистой полосе?

- 1) двуполье
- 2) подсечно-огневую
- 3) переложную

Г) Одной из политических целей Великого посольства (1697-1698 гг.) было заключение союза России с европейскими государствами для ведения войны с

- 1) Турцией
- 2) Швецией
- 3) Речью Посполитой

А)	Б)	В)	Г)
3)	1) 1497	2)	1)

Задание 2.

По какому принципу образованы ряды? Напишите максимально точный ответ. За каждый правильный ответ – 3 балла. Максимальный балл – 9.

А) А.С. Шейн, А.Д. Меншиков, А.У. Брауншвейгский, А.В. Суворов.

Б) Сражение у мыса Гангут, взятие Ниеншанца, сражение при Лесной, Гренгамское сражение

В) Г.З. Байер, Г.Ф. Миллер, А.Л. Шлецер, Н.М. Карамзин.

Г) Иезуиты, орденом иезуитов, орденом доминиканцев, орденом францисканцев

Задание 3. Дайте краткое обоснование ряда (что объединяет перечисленные элементы с исторической точки зрения) и укажите, какой из элементов является лишним по данному основанию. За каждый правильный ответ – 2 балла, за объяснение – 3 балла. Максимальный балл – 10.

А) Прокопий Ляпунов, Дмитрий Трубецкой, Иван Заруцкий, Михаил Шейн.

Б) Ништадтский мир (1721), Белградский мир (1739), Кючук-Кайнарджийский мир (1774), Ясский мир (1791)

В) Все события – это заключение мирных договоров с Турцией (Османской империей), кроме первого – Ништадтский мир (1721).

Задание 4. Определите пропущенные в тексте названия, слова, имена, даты, обозначенные порядковыми номерами. При необходимости при порядковых номерах даются пояснения о характере требующей вставки. Необходимые вставки впишите под соответствующими номерами в помещенную ниже таблицу. По 1 баллу за каждую верную вставку. Всего 10 баллов.

Реформы (1 – неофициальный орган управления) коснулись прежде всего управления и суда. В (2 – год) году был создан первый (3 – название органа) – собрание сословных представителей от бояр, дворян, духовенства, купцов, посадских людей (на некоторых – и от (4 – название категории крестьян)). Выполняя его решения, правительство в следующем году приняло (5 – название документа). По нему была ограничена власть (6 – название должности) и (7 – название должности): их деятельность контролировалась центральной властью и представителями местного населения – «лучшими людьми» (выборными из посадских и (4)). Складывалась система органов центральной исполнительной власти – (8 – название органов), которые поначалу назывались «избами». В них служили бояре, окольничьи, дяки, подьячие – складывался профессиональный аппарат центральной власти. Функции и предметы ведения между (8) были разграничены: так, например, (9 – название органа) ведал дворянским войском, (10 – название органа) осуществлял суд над грабителями, ворами, убийцами.

- 1. Избранная Рада.
- 2. 1549
- 3. Земский собор
- 4. Земские органы
- 5. Судебник
- 6. Иезуиты
- 7. боярство
- 8. Местные органы
- 9. Разрядный приказ
- 10. Разбойный приказ

Задание 5.

Перед Вами перечень ныне существующих зданий, созданных тремя различными архитекторами XVIII века. Запишите в верхнюю строку таблицы в бланке работы фамилии архитекторов, а в нижнюю – порядковые номера сооружений, созданных соответствующими архитекторами. По 2 балла за каждого названного архитектора. По 2 балла за каждое верное соотношение. Всего 24 балла.

- 1) Зимний дворец в Санкт-Петербурге
- 2) собор Петропавловской крепости
- 3) Екатерининский дворец в Царском Селе
- 4) здание Сената в Московском Кремле
- 5) Петровский путевой дворец в Москве
- 6) собор Смоленского монастыря
- 7) здание Благородного собрания в Москве
- 8) Летний дворец Петра I
- 9) здание Двенадцати коллегий

Архитектор	Б.Ф. Растрелли	Д. Трезини	И. Казаков
Сооружение	1; 6; 3;	2; 9; 8;	4; 5; 7.

Задание 6.

Расположите в хронологической последовательности события. 4 балла – полностью верная последовательность. 3 балла – последовательность с одной ошибкой (т. е. верная последовательность восстанавливается путём перестановки любых двух символов). 0 баллов – допущено более 1 ошибки.

- А) поход новгород-северского князя Игоря на половцев 1185
- Б) битва на реке Калке 1223
- В) любецкий съезд князей 1097
- Г) первое летописное упоминание о Москве 1147
- Д) перенос митрополичьей кафедры в Москву 1325






Васильева Любовь Евгеньевна

3
3
3

5

памятник
Секретно
защиты
от пожара
и все это
были в
наказ
защиты
защиты
от пожара
казаков.

Задание 7.
Соотнесите имена исторических деятелей, указанные в списке, с соответствующими фрагментами текста и связанными с ними изображениями. Заполните таблицу: во вторую колонку таблицы запишите имя деятеля, в третью колонку таблицы запишите номер соответствующего фрагмента текста. По 4 балла за каждое верное соотношение. Всего за задание 20 баллов.

<p style="text-align: center;">А</p> 	<p style="text-align: center;">Б</p> 
<p style="text-align: center;">В</p> 	<p style="text-align: center;">Г</p> 
<p style="text-align: center;">Д</p> 	

Имена деятелей:
Владимир Мономах, Пётр I, Екатерина II, Иван Калита, Дмитрий Донской, Иван IV Грозный, Василий Шуйский, Анна Иоанновна

(Обратите внимание, что в списке представлено большее, чем требуется, количество имён.)

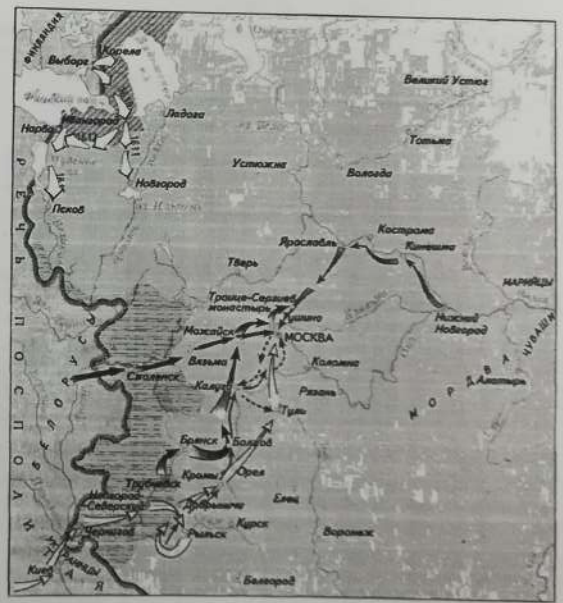
Ответ:

Буквенное обозначение изобра-	Имя деятеля
-------------------------------	-------------

эсения		
А	Петр I	
Б	Иван Калита	
В	Иван IV Грозный	
Г	Владимир Мономах	
Д	Екатерина II	

Задание 8. 20
Рассмотрите карту и выполните задания. Максимальный балл за задание – 11.

- В результате похода, обозначенного в легенде карты цифрой 1, его предводитель стал русским царём. (1 балл)
- Территории, обозначенные на карте штриховкой «А», отошли к противнику по Стефановскому договору. (3 балла)
- Поход, обозначенный в легенде карты цифрой 2, номинально возглавлял человек по прозвищу Тушинский вор. (2 балла)
- Поход, предводителями которого являлись князь и «выборный всею землею человек», обозначен в легенде карты цифрой 6. (2 балла)
- Территории, обозначенные на карте штриховкой «Б», были возвращены Великим князем Литовским. (3 балла)



- Граница Российского государства
- 1
- 2
- 3
- 4
- 5
- 6
- ▨ А
- ▨ Б

8003

Задание 9

Расположите в хронологической последовательности перечисленные события. 4 балла за полностью верную последовательность. 2 балла за последовательность с одной ошибкой (т. е. верная последовательность восстанавливается путём перестановки любых двух символов). 0 баллов, если допущено более одной ошибки. Всего за задание 4 балла.

- А) начало правления последнего царя из династии Рюриковичей
- Б) начало двосцарствия Петра I и Ивана V
- В) начало правления династии Стюартов в Англии
- Г) начало Великой Французской революции
- Д) созыв Второго Народного ополчения
- Е) начало Реформации в Германии

3

Ответ:

А	Б	В	Г	Д	Е
---	---	---	---	---	---

Максимальный балл - 100