

ШКОЛЬНЫЙ ЭТАП
ВСЕРОССИЙСКОЙ ОЛИМПИАДЫ ШКОЛЬНИКОВ
ПО ИСТОРИИ 2020-2021 г.
ЗАДАНИЯ
8 КЛАСС

1	2	3	4	5	6	7	8	9	Итого
4	5	7	4	20	0	20	5	4	42

Задание 1.

Выберите правильный ответ. За каждый правильный ответ – 2 балла. Максимальный балл – 8

А) Как называется документ, отрывок из которого представлен ниже?

«В случае, если какая-либо форма правительства становится губительной для самих этих целей, народ имеет право изменить или упразднить её и учредить новое правительство, основанное на таких принципах и формах организации власти, которые, как ему представляется, наилучшим образом обеспечат людям безопасность и счастье».

- 1) Соборное уложение 2) Великая хартия вольностей
3) Декларация независимости 4) Судебник Ивана IV

Б) В каком году был принят документ, отрывок из которого приводится ниже?

«Лето 7006, месяца семтвебря, уложил князь великий Иван Васильевич всяя Руси, с детми и с бояры, о суде, как судити боярам и околничим...»

57. О христианском отказе. А христианом отказываться из волости, ис села в село, один срок в году за неделю до Юрьева дни осеннего и неделю после Юрьева дни осеннего...»

- 1) 1497 г. 2) 1525 г. 3) 1550 г. 4) 1581 г.

В) Какую систему земледелия применяли восточные славяне в VI-VIII веках в лесистой полосе?

- 1) двуполье 2) подсечно-огневую 3) переложную

Г) Одной из политических целей Великого посольства (1697-1698 гг.) было заключение союза России с европейскими государствами для ведения войны с

- 1) Турцией 2) Швецией 3) Речью Посполитой

А	Б	В	Г
3	5	2	2

Задание 2.

По какому принципу образованы ряды? Напишите максимально точный ответ. За каждый правильный ответ – 3 балла. Максимальный балл – 9.

А) А.С. Пушкин, А.Д. Меншиков, А.У. Брауншвейгский, А.В. Суворов.

2 Русские воеводы

Б) Сражение у мыса Гангут, взятие Ниеншанца, сражение при Лесной, Гренгамское сражение

3 Сражения во время Северной войны

В) Г.З. Байер, Г.Ф. Миллер, А.Л. Шлецер, Н.М. Карамзин.

Задание 3.

Дайте краткое обоснование ряда (что объединяет перечисленные элементы с исторической точки зрения) и укажите, какой из элементов является лишним по данному основанию. За каждый правильный ответ – 2 балла, за объяснение – 3 балла. Максимальный балл – 10.

А) Прокопий Ляпунов, Дмитрий Трубецкой, Иван Заруцкий, Михаил Шеин.

2 Все - русские воеводы Смуты, Иван Заруцкий - атаман казаков

Б) Ништадтский мир (1721), Белградский мир (1739), Кючук-Кайнарджийский мир (1774), Ясский мир (1791)

5 Все - кроме Ясского мира, мир : Австро-польский мир

Задание 4.

Определите пропущенные в тексте названия, слова, имена, даты, обозначенные порядковыми номерами. При необходимости при порядковых номерах даются пояснения о характере требу-

емой вставки. Необходимые вставки впишите под соответствующими номерами в помещённую ниже таблицу. По 1 баллу за каждую верную вставку. Всего 10 баллов.

Реформы (1 – неофициальный орган управления) коснулись прежде всего управления и суда. В (2 – год) году был создан первый (3 – название органа) – собрание сословных представителей от (крестьян)). Выполняя его решения, правительство в следующем году приняло (5 – название документа). По нему была ограничена власть (6 – название должности) и (7 – название должности): их деятельность контролировалась центральной властью и представителями местного населения – исполнительной власти – (8 – название органов), которые поначалу назывались «избами». В них служили бояре, околничи, дьяки, подьячие – складывался профессиональный аппарат центральной власти. Функции и предметы ведения между (8) были разграничены: так, например, (9 – название органа) ведал дворянским войском, (10 – название органа) осуществлял суд над грабителями, ворами, убийцами.

- Учредительное собрание +
- 1549 +
- Земский Собор +
- Судословники +
- Судебник +
-
-
- Приказы +
-
- Дворянский +

Задание 5.

Перед Вами перечень ныне существующих зданий, созданных тремя различными архитекторами XVIII века. Запишите в верхнюю строку таблицы в бланке работы фамилии архитекторов, а в нижнюю – порядковые номера сооружений, созданных соответствующими архитекторами. По 2 балла за каждого названного архитектора. По 2 балла за каждое верное соотношение. Всего 24 балла.

- Зимний дворец в Санкт-Петербурге
- собор Петропавловской крепости
- Екатерининский дворец в Царском Селе
- здание Сената в Московском Кремле
- Петровский путевой дворец в Москве
- собор Смоленского монастыря
- здание Благородного собрания в Москве
- Летний дворец Петра I
- здание Двенадцати коллегий

Архитектор	2	<u>Фридрих Вестфаль</u>	<u>Антон Лей Каваров</u>	<u>Доминико Мрочковский</u>
Сооружение	<u>1, 3, 2,</u>	<u>4, 5, 7</u>	<u>6, 8, 9</u>	
	<u>2, 2</u>	<u>2, 2, 2</u>	<u>2, 2</u>	

Задание 6.

Расположите в хронологической последовательности события. 4 балла – полностью верная последовательность. 3 балла – последовательность с одной ошибкой (т. е. верная последовательность восстанавливается путём перестановки любых двух символов). 0 баллов – допущено более 1 ошибки.






- поход новгород-северского князя Игоря на половцев
- битва на реке Калке
- лобечский съезд князей
- первое летописное упоминание о Москве
- перенос митрополичьей кафедры в Москву

8006

0 2 в а д

Задание 7.

Соотнесите имена исторических деятелей, указанные в списке, с соответствующими фрагментами текста и связанными с ними изображениями. Заполните таблицу: во вторую колонку таблицы запишите имя деятеля, в третью колонку таблицы запишите номер соответствующего фрагмента текста. По 4 балла за каждое верное соотнесение. Всего за задание 20 баллов.

<p style="text-align: center;">А</p> 	<p style="text-align: center;">Б</p> 
<p style="text-align: center;">В</p> 	<p style="text-align: center;">Г</p> 
<p style="text-align: center;">Д</p> 	

Имена деятелей:

Владимир Мономах, Пётр I, Екатерина II, Иван Калита, Дмитрий Донской, Иван IV Грозный, Василий Шуйский, Анна Иоанновна
(Обратите внимание, что в списке представлено большее, чем требуется, количество имён.)

Ответ:

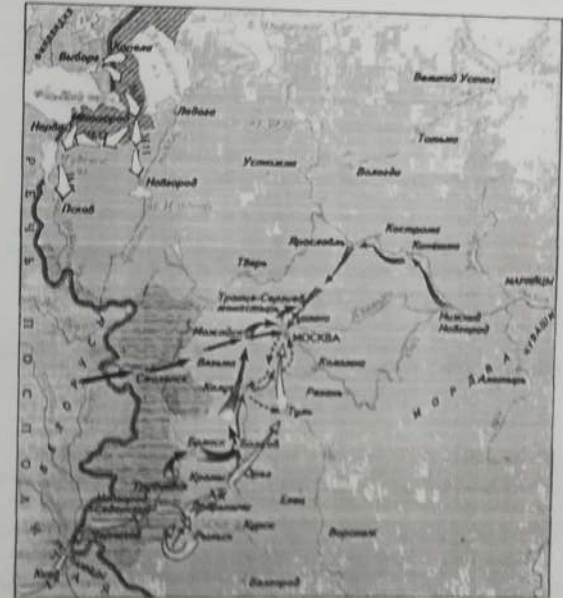
Буквенное обозначение изобра-	Имя деятеля
-------------------------------	-------------

жсения		
А		
Б	Петр I	4
В	Иван Калита	4
Г	Владимир Мономах	4
Д	Анна Иоанновна	4

Задание 8.

Рассмотрите карту и выполните задания. Максимальный балл за задание – 11.

1. В результате похода, обозначенного в легенде карты цифрой 1, его предводитель стал русским царём. (1 балл)
2. Территории, обозначенные на карте штриховкой «А», отошли к противнику по _____ (назовите договор). (3 балла)
3. Поход, обозначенный в легенде карты цифрой 3, номинально возглавлял человек с прозвищем Тушинский вор. (2 балла)
4. Поход, предводителями которого являлись князь и «выборный всего землею человек», означен в легенде карты цифрой 6. (2 балла)
5. Территории, обозначенные на карте штриховкой «Б», были возвращены _____ (назовите договор). (3 балла)



- Граница Российского государства
- 1 — [Arrow symbol]
- 2 — [Arrow symbol]
- 3 — [Arrow symbol]
- 4 — [Arrow symbol]
- 5 — [Hatched area symbol]
- 6 — [Arrow symbol]
- А — [Hatched area symbol]
- Б — [Hatched area symbol]

8006

Задание 9

Расположите в хронологической последовательности перечисленные события. 4 балла за полностью верную последовательность. 2 балла за последовательность с одной ошибкой (т. е. верная последовательность восстанавливается путём перестановки любых двух символов). 0 баллов, если допущено более одной ошибки. Всего за задание 4 балла.

- А) начало правления последнего царя из династии Рюриковичей
- Б) начало двосцарствия Петра I и Ивана V
- В) начало правления династии Стюартов в Англии
- Г) начало Великой Французской революции
- Д) созыв Второго Народного ополчения
- Е) начало Реформации в Германии

Ответ:

48

e	a	b	г d	б	г
---	---	---	----------------	---	---

Максимальный балл - 100